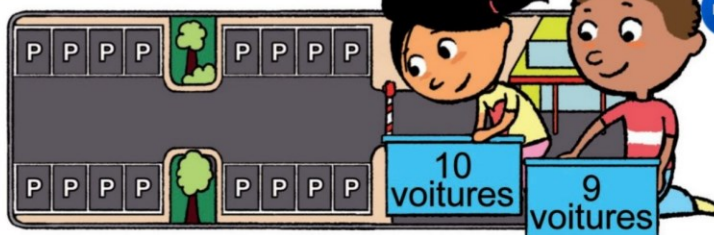


Je consolide mes connaissances

- 1 Zoé et Arthur veulent ranger leurs petites voitures sur ces places de parking.

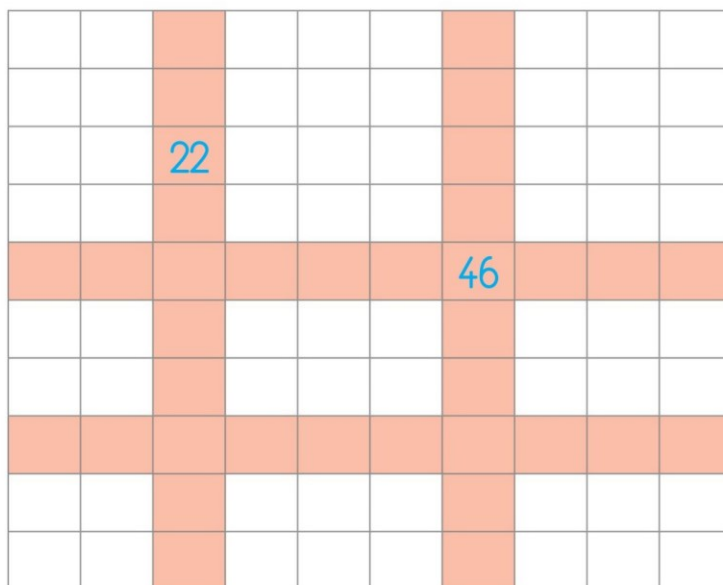
Combien de places manque-t-il ?

Il manque places.




- 2 Dans le tableau des nombres, on a caché tous les nombres, sauf deux.

Écris tous les nombres des cases **rouges**.



- 3 Arthur et Zoé mettent toutes ces cerises dans le même panier.



Complète l'addition qui permet de trouver combien il y aura de cerises dans le panier.

$$\dots + \dots = \dots$$

Il y aura cerises dans le panier.

- 4 Calcule avec la méthode de ton choix.

$$27 + 42 = \dots$$

$$53 + 40 = \dots$$

